



Pusat Tuisyen Skor Impian

LATIHAN SET 4

TAHUN 4

Cikgu Singh

011-21157908

Latihan 1 Bahasa Melayu

Isi tempat kosong dengan kata perintah yang betul. Tulis semula ayat.

1- (Jemput, Tolong) beratur sebelum masuk ke makmal Sains.

.....

2- (Usah, Sila) tertipu dengan orang yang tidak dikenali?

.....

3- “(Harap, Jangan) merokok disini,” kata pengawai itu?

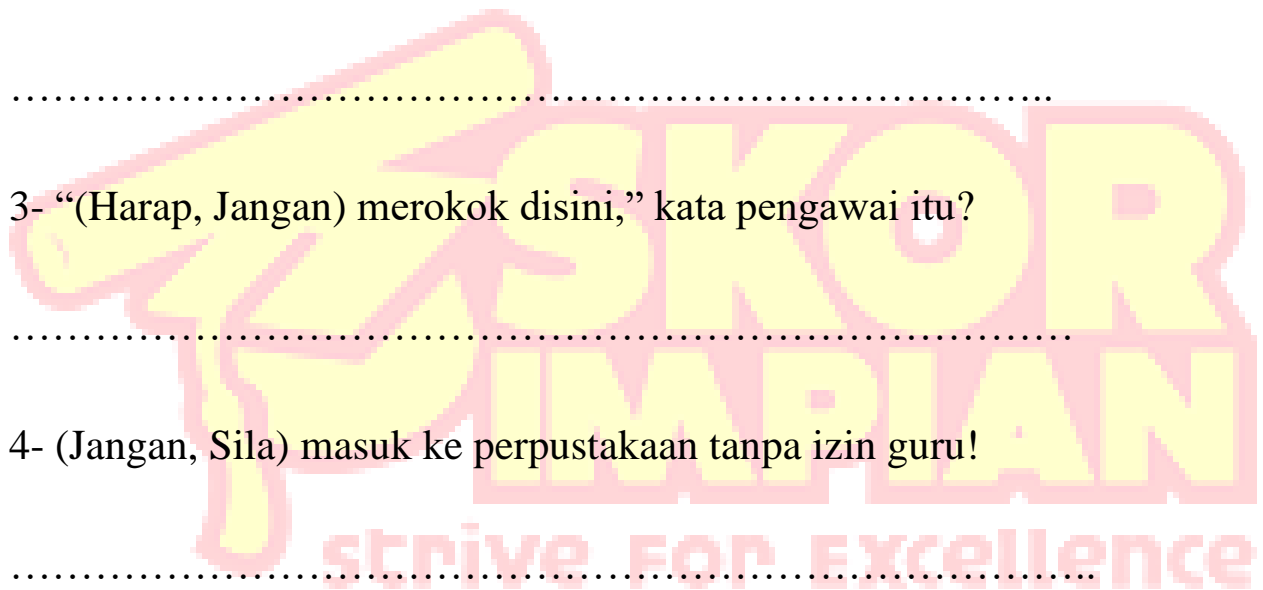
.....

4- (Jangan, Sila) masuk ke perpustakaan tanpa izin guru!

.....

5- (Harap, Tolong) puan dapat bersabar.

.....



Latihan 2 Bahasa Melayu

Tulis kata kerja transitif dalam ayat di bawah.

1- Amirul suka membaca buku cerita Sang Kancil.

.....

2- Kamal menendang bola itu dendan sekuat hari.

.....

3- Ibu sedang memasak mee goreng di dapur.

.....

4- Aiman sedang menonton televisyen di ruang tamu.

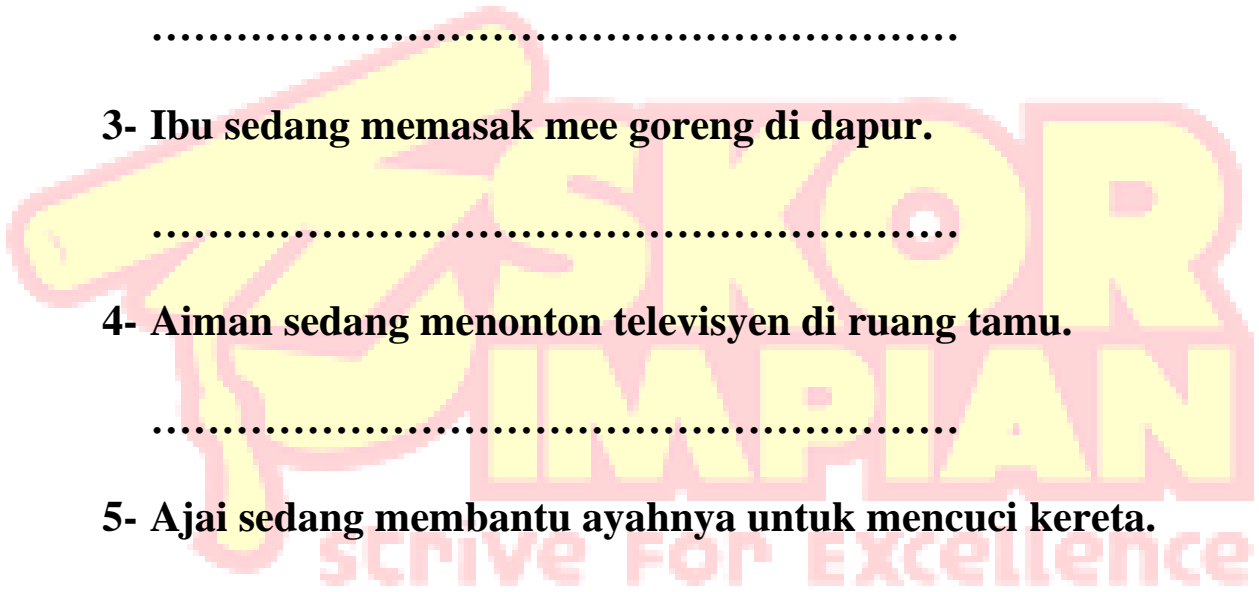
.....

5- Ajai sedang membantu ayahnya untuk mencuci kereta.

.....

6- Amirah membeli sepasang baju kurung untuk kakaknya.

.....



Latihan 1 Bahasa Inggeris

Rewrite the following sentences using correct punctuation.

1- why was you crying

.....

2- the capital of malaysia is kuala lumpur

.....

3- i am born in October

.....

4- how much is the price of this bag

.....

5- miss harnish is mathematics teacher

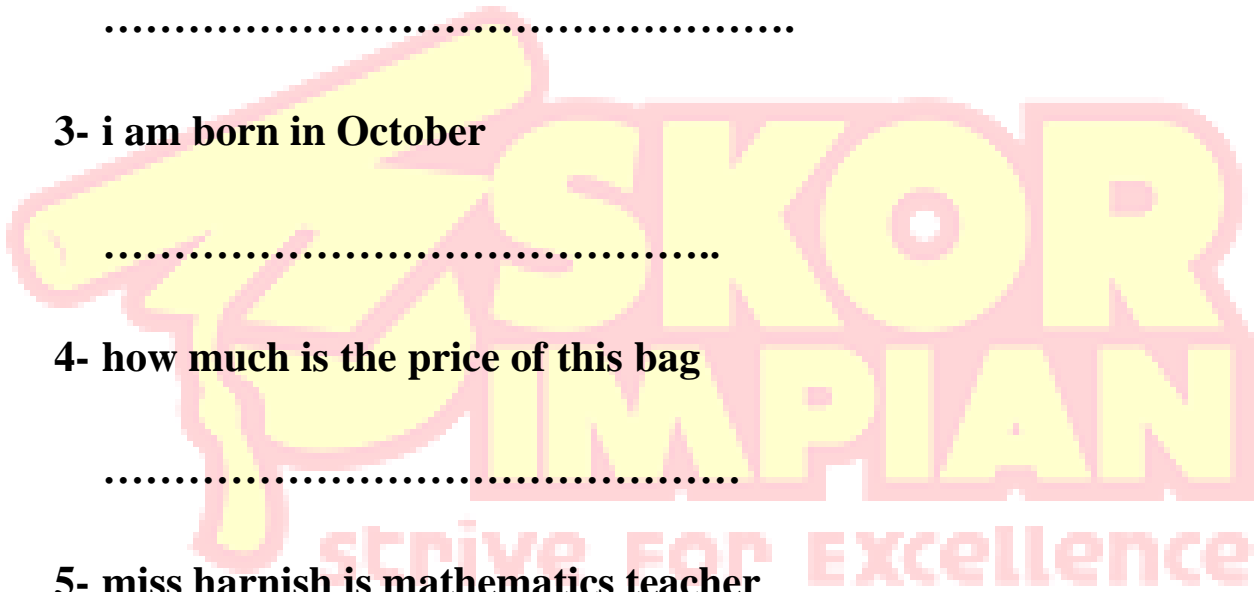
.....

6- ah seng is watching harry potter in his room.

.....

7- they went to singapore by bus.

.....



Latihan 2 Bahasa Inggris

Fill in the blanks with correct alphabets based on the picture. Then make a sentence with each word.



c _ _ ked



l_s _ _ _ ed



p_i _ _ ed




k_c _ _ ed

Latihan 1 Matematik

Selesaikan
Solve

$35663 - 3787 + 1456$	$12332 - 3451 + 1002$
$76907 + 34721 - 2345$	$37781 - 7899 + 10098$
$1005 + 5679 - 3452$	$98717 - 2347 + 4589$
$66789 - 54671 - 1235$	$12976 - 7541 - 245$



Latihan 2 Matematik

Selesaikan.

Solve

1- Dalam tahun 2019, hasil jualan baju Kedai Syarmil ialah 23456 pasang. Jualan baju merosot pada tahun 2020 menjadi 18675 pasang. Cari beza hasil jualan kedua-dua tahun ini.

In 2019, Syarmil sold 23456 clothes. The sales decrease in 2020 and become only 18675. Find the difference of sales in these two years.

2- Puan Ramlah menerima tempahan kuih dari dua pihak. Jika tempahan kuih untuk pihak A ialah 5634 biji dan jumlah keseluruhan kuih yang ditempah ialah 16759 biji. Berapakah bilangan kuih yang ditempah oleh pihak B?

Miss Ramlah received kuih order for two different events. For event A, she has to prepare 5634 kuih and the total number of kuih she has to prepare is 16759. How many kuih has she got to prepare for event B?

Latihan 1 Sains

Padankan organ berikut kepada kepentingannya.

Match the following organs to its importance.

Organ

Keentingan/Importance

Peparu
Lungs

Sambung hidung dengan
peparu
Connects nose and the lungs

Trakea
Trachea

Tempat berlaku pertukaran
udara semasa pernafasan
Site where gas exchange
take place during
respiration

Hidung
Nose

Membolehkan udara masuk
dan keluar dari badan
Allow air enter and exit the
body

Latihan 2 Sains

Jadual menunjukkan masa yang diambil oleh Alif dalam larian 1 km, 3 km, 5 km dan 7 km.

Table shows time taken by Alif in 1 km, 3 km, 5 km and 7 km run.

Distance (km) Jarak	Time taken (min) Masa diambil	Estimated breathing rate within 30 s Anggaran pernafasan dalam 30 s
1	15	55
3	30	67
5		
7	80	95

1- Tulis pemboleh ubah yang

Write variable that is

a) Dimanipulasi
Manipulated

b) Bergerak balas

Responding variable

2- Apakah corak perubahan kadar pernafasan Alif?

What is the pattern of changes of Alif's breathing rate?

3- Ramalkan masa yang diambil oleh Alif pada jarak 5km?

Predict time taken at distance of 5km?