



Pusat Tuisyen Skor Impian

LATIHAN SET 3

TAHUN 4

011-21157908

Latihan 1 Bahasa Melayu

Pilih kata tanya yang sesuai. Kemudian tulis semula ayat-ayat di bawah.

1-(Bilakah, Apakah) kakak awak akan berangkat ke Singapura?

.....

2- (Apakah, Bagaimanakah) jenama kasut kamu?

.....

3- (Manakah, Berapakah) harga segugus anggur?

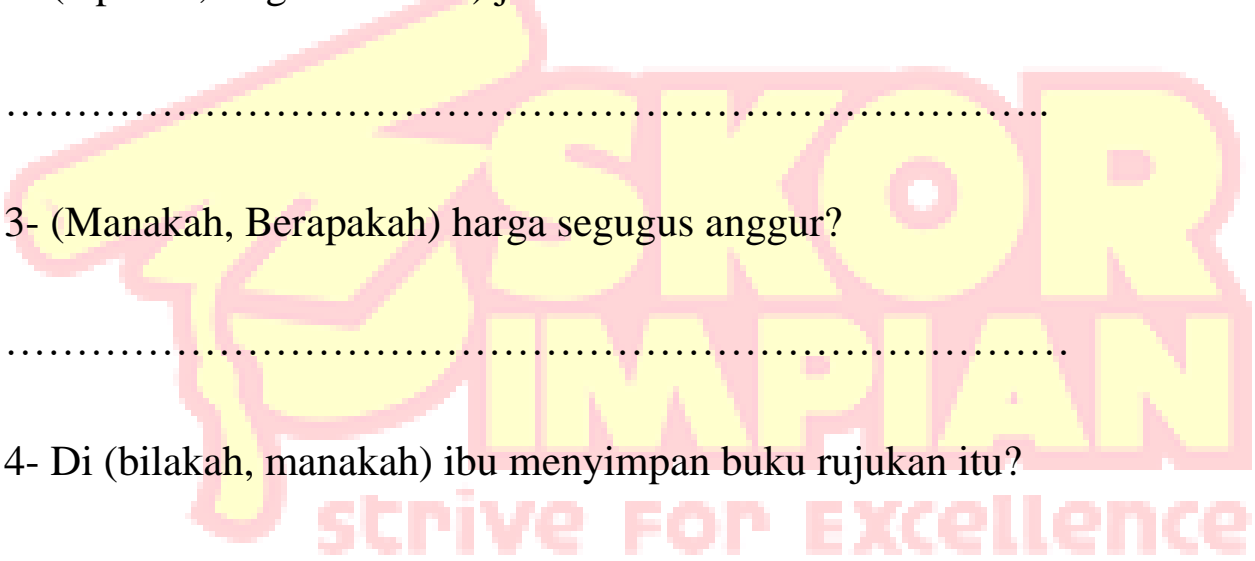
.....

4- Di (bilakah, manakah) ibu menyimpan buku rujukan itu?

.....

5- (Siapakah, Apakah) yang mendapat tempat pertama dalam kelas?

.....



Latihan 2 Bahasa Melayu

Isi tempat kosong dengan kata bantu yang betul.

1- Azimah memasak ayam goreng semalam.

- A. akan
- B. telah
- C. nanti
- D. pergi

2- Rosman menangis kakinya tercedera.

- A. akan
- B. untuk
- C. kerana
- D. mesti

3- Rusmawati menjadi guru yang bertanggungjawab.

- A. boleh
- B. mahu
- C. mesti
- D. pada

4- Ali..... bermain gasing dengan Ahmad di halaman rumah

- A. ingin
- B. pada
- C. kerana
- D. mesti

5- Anak-anak menghormati ibu bapa.

- A. perlu
- B. ingin
- C. boleh
- D. mahu

Latihan 1 Bahasa Inggeris

Form questions for the following answer.

1- My name is Siti.

What is your name?

2- I live in Kota Damansara.

.....

3- It is only RM 3.00

.....

4- He is absent because his leg is injured.

.....

5- Maria gave me a bar of chocolate.

.....

6- My brother is the room.

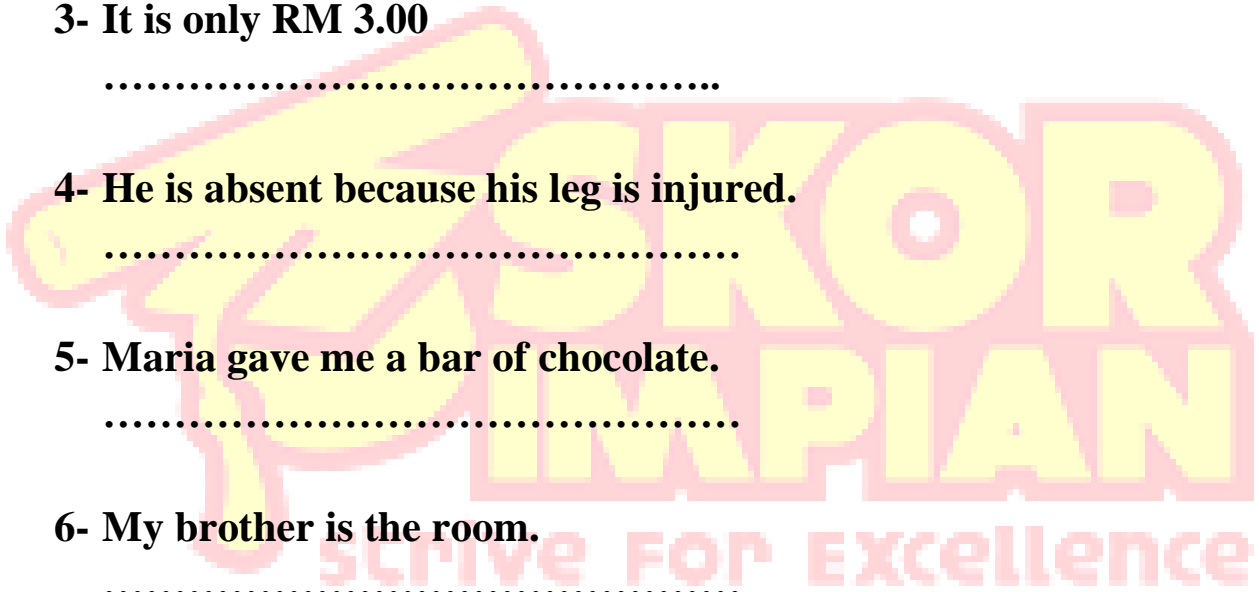
.....

7- They go to school by bus.

.....

8- Her birthday is on 30th October.

.....



Latihan 2 Bahasa Inggris

Fill in the blanks using 'am', 'is' or 'are'.


- 1- Prabhpreet the youngest in his family.
- 2- The boys playing football.
- 3- They from Kota Bharu.
- 4- Nisha..... Hardworking student.
- 5- My teacher..... very kind.
- 6- I wearing new socks.
- 7- The dog..... barking at strangers.
- 8- She my best friend.
- 9- I looking for new dress.
- 10- My mother..... cooking in the kitchen.
- 11- You very helpful.
- 12- The cats eating fish.
- 13- He watching a movie.

Latihan 1 Matematik

Selesaikan hasil tambah

Solve the sum

$45623 + 3710$	$67532 + 34514$
$80907 + 56721$	$33381 + 7899$
$1005 + 567 + 3714$	$98717 + 2347 + 458$
$66789 + 54671 + 1235$	$12976 + 76541 + 2345$



Latihan 2 Matematik

Selesaikan.

Solve

1- Aminah mempunyai 115 biji guli. Adiknya mempunyai 232 biji guli. Berapakah jumlah guli mereka?

Aminah have 115 marbles. Her brother has 232 marbles. Find the sum of marbles they have

2- Sebuah kilang menghasilkan 2 jenis muffin, coklat dan vanilla. Bilangan muffin coklat ialah 1500 manakala bilangan muffin vanilla ialah 255 lebih dari muffin coklat. Cari jumlah muffin yang dihasilkan.

A factory produces 2 types muffin, chocolate and muffin. The number of chocolate muffins are 1500. Number of vanilla muffin are 255 more than chocolate muffin. Find total number of muffin produced

3- Sebuah kotak mempunyai 1345 pen hitam, 23456 pen biru dan 1240 pen merah. Hitung jumlah pen.

A box contains 1345 black pen, 23456 blue pen and 1240 red pen. Calculate the total number of pen.

Latihan 1 Sains

Jawab soalan berikut

Answer the following questions

- 1- Nyatakan 3 organ yang terlibat dalam pernafasan
Name 3 organs involved in breathing

.....

.....

.....

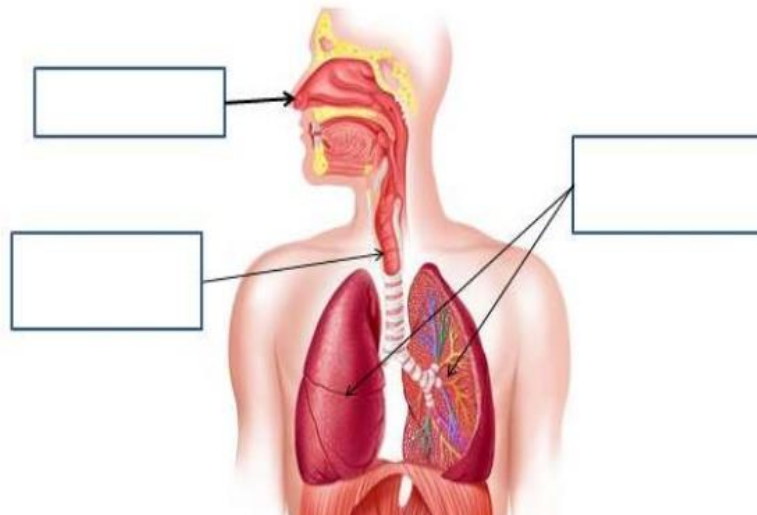
- 2- Namakan gas yang diperlukan untuk pernafasan
Name the gas needed for breathing

.....

- 3- Namakan gas yang dibuang dari badan semasa menghembus nafas.
Name the gas that is removed from body during exhalation.

.....

- 4- Label organ yang terlibat dalam pernafasan manusia
Label the organs involved in human breathing



5- Lengkapi laluan udara apabila

a) Menarik nafas

Inhalation



b) Menghembus nafas

Exhalation



6- Semasa menarik nafas,

a) dada bergerak ke..... dan

b) udara paru

7- Semasa menghembus nafas,

a) dada bergerak ke..... dan

b) udara paru

