



Pusat Tuisyen Skor Impian

LATIHAN SET 1

TAHUN 5

011-21157908

Latihan 1 Bahasa Melayu

Bina ayat tunggal dengan perluasan subjek atau predikat yang diberi.

1- a) Subjek: Pelajar

b) Predikat: bermain bola sepak

c) Perluasan predikat: bermain bola sepak di padang sekolah

d) Ayat tunggal

.....

2- a) Subjek: Kelab Alam Sekitar

b) Predikat: telah menganjurkan Kempen Kitar Semula

c) Perluasan subjek: Kelab Alam Sekitar SK Taman Desa

d) Ayat tunggal

.....

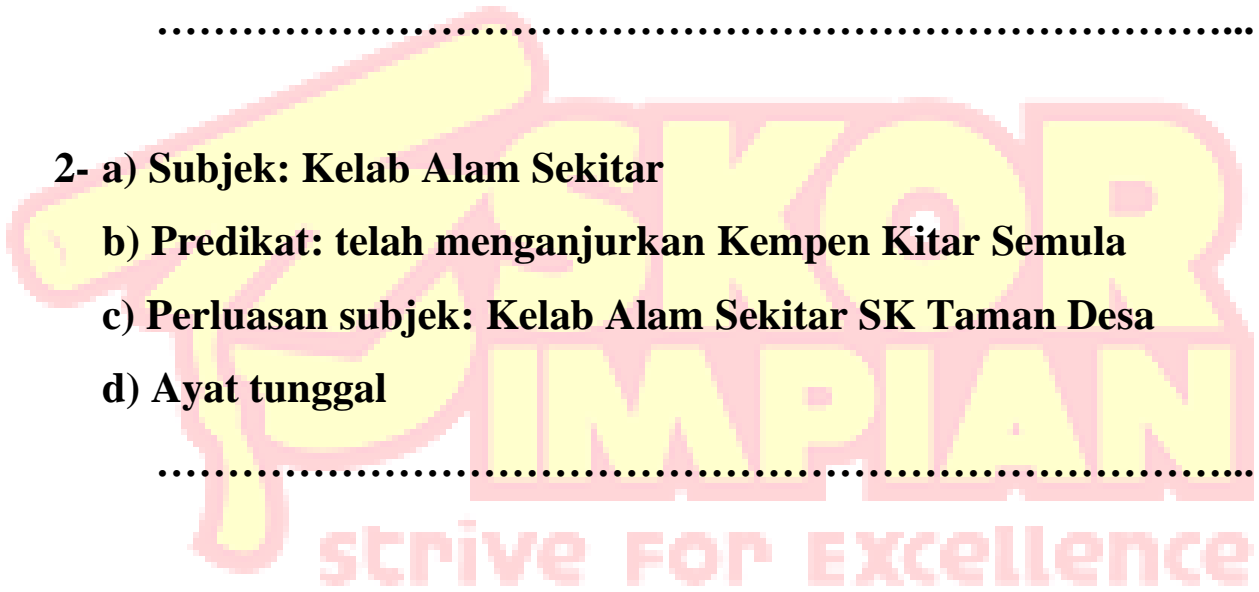
3- a) Subjek: Orang kampung

b) Predikat: telah bergotong royong

c) Perluasan predikat: telah bergotong royong membersihkan
taman


d) Ayat tunggal

.....



Latihan 2 Bahasa Melayu

Bina ayat berdasarkan gambar yang diberi



1-

2-

3-

4-

5-

Latihan 1 Bahasa Inggeris

Write 5 sentences based on the photo given.




1-

2-

3-

4-

5-



Latihan 2 Bahasa Inggris

Write sentences bases on connectors given.

1- However

.....

2- Although

.....

3- Since

.....

4- But

.....

5- Because

.....

6- While

.....



Latihan 1 Matematik

Tulis nilai tempat dan nilai digit bagi digit yang berwarna merah

Write place value and digit value for the red coloured digit

142**3**10

66175**1**

51**0**075

925869

Nilai tempat Place value	Nilai tempat Digit Value

Latihan 2 Matematik

Tuliskan nombor berikut dalam perkataan.

Write the following numbers in words.

1- 120405 =

2- 190817 =

3- 347906 =

4- 500417 =

Latihan 3 Matematik

Tuliskan nombor berikut dalam angka.
Write the following numbers in numerals.

1- Lapan ratus tiga puluh ribu lima ratus enam / Eight hundred thirty thousand five hundred and six

.....

2- Empat ratus dua puluh satu ribu empat ratus enam puluh satu/ Four hundred twenty-one thousand four hundred and sixty one

.....

3- Lapan ratus ribu enam puluh satu / Eight hundred thousand and sixty-one

.....

4- Satu ratus tujuh puluh tiga ribu lima ratus sebelas/ One hundred seventy-three thousand five hundred and one

.....

Latihan 4 Matematik

Bundarkan nombor di bawah.
Round off the following number


Angka Number	Ratus Hundred	Ribu Thousand	Puluh ribu Ten thousand	Ratus ribu Hundred thousand
876531				
126488				
625186				
307145				

Latihan 1 Sains

Namakan peralatan berikut.

Name the following instruments

1-




2-



3-



4-



5-



Latihan 2 Sains

Jadual menunjukkan purata kadar denyutan 4 pelajar selepas menjalankan pelbagai aktiviti.

Table below shows average heartbeat rate for 4 students after carrying out various activities.

Pelajar Student	Aktiviti Activity	Purata kadar denyutan Average heartbeat rate (per minut)
Amin	Berlari Running	76
Chong	Berenang Swimming	82
Kumar	Berjalan Walking	68
Ahmad	Melompat Jump	72

1- Nyatakan tujuan penyiasatan ini?

What is aim of the investigate?

.....

2- Nyatakan

State the

**a) Pemboleh ubah dimanipulasi
Manipulated variable**

.....

**b) Pemboleh ubah bergerak balas
Responding variable**

.....

**c) Pemboleh ubah dimalarkan
Fixed variable**

.....

3- Nyatakan satu pemerhatian berdasarkan jadual berikut

Make an observation based on the table

.....

4- Nyatakan inferens tentang pemerhatian yang dibuat

State the inference based on the observation given.

.....

