



Pusat Tuisyen Skor Impian

LATIHAN SET 1

TAHUN 4

CIKGU SINGH
011-21157908

Latihan 1 Bahasa Melayu

Lengkapkan ayat-ayat dibawah menggunakan penjodoh bilangan yang sesuai

ekor	pasang	jambak	kawan	bilah
bidang	bentuk	rangkap	kaki	

- 1- Encik Kamal mempunyai se..... tanah di kampungnya.
- 2- Puan Ain membeli se..... payung untuk anaknya.
- 3- Abang menggunakan se..... parang untuk menebang pokok.
- 4- Amin menghadiahkan se..... subang kepada Siti
- 5- Ibu membeli se..... baju melayu untuk ayah
- 6- Semua pelajar diminta menulis se..... pantun.
- 7- Aina membeli se..... bunga untuk kawannya sebagai hadiah graduasi.
- 8- Pemburu itu berjaya menembak se..... beruang.
- 9- Se..... kambing sedang meragut rumput di taman.

Latihan 2 Bahasa Melayu

Bina ayat menggunakan perkataan dan gambar yang diberi

1- mengayuh- masa lapang

.....
.....



2- menari - hobi

.....
.....




3- menanam - pokok

.....
.....



4- menonton - televisyen

.....
.....



5- melukis - gambar

.....
.....



Latihan 1 Bahasa Inggris

Write 5 sentences based on the photo and word given.



eating	buying	washing	food
table	line up	basin	hands

1-

2-

3-

4-

5-

Latihan 2 Bahasa Inggris

Fiil in with correct tenses

1- Last year we flight to Jakarta

- A. taking
- B. took
- C. take
- D. were taking

2- My sister and her friend in the kitchen right now

- A. was cooking
- B. were cooking
- C. are cooking
- D. cooked

3- This year we Hari Raya at home.

- A. celebrated
- B. celebrate
- C. are celebrating
- D. were celebrating

4- I under the umbrella in the rain

- A. stood
- B. stand
- C. were standing
- D. standing

5- The boy showered before he

- A. swim
- B. swam
- C. swimming
- D. were swimming

Latihan 1 Matematik

Tulis nilai tempat dan nilai digit bagi digit yang berwarna merah

Write place value and digit value for the red coloured digit

	Nilai tempat Place value	Nilai tempat Digit Value
12 3 10		
6175 1		
1 0075		
9 5695		
7 0135		
508 3 0		
4 5679		
13 8 09		
570 6 1		

Latihan 2 Matematik

Tuliskan nombor berikut dalam perkataan.

Write the following numbers in words.

1- 12045 =

2- 19081 =

3- 34790 =

4- 50041 =

5- 87512 =

Latihan 3 Matematik

Tuliskan nombor berikut dalam angka.

Write the following numbers in numerals.

1- Empat puluh ribu lima ratus enam / Fourty thousand five hundred and six

.....

2- Tiga puluh satu ribu empat ratus enam puluh satu/ Thirty one thousand four hundred and sixty one

.....

3- Lapan puluh ribu satu/ Eighty thousand and one

.....

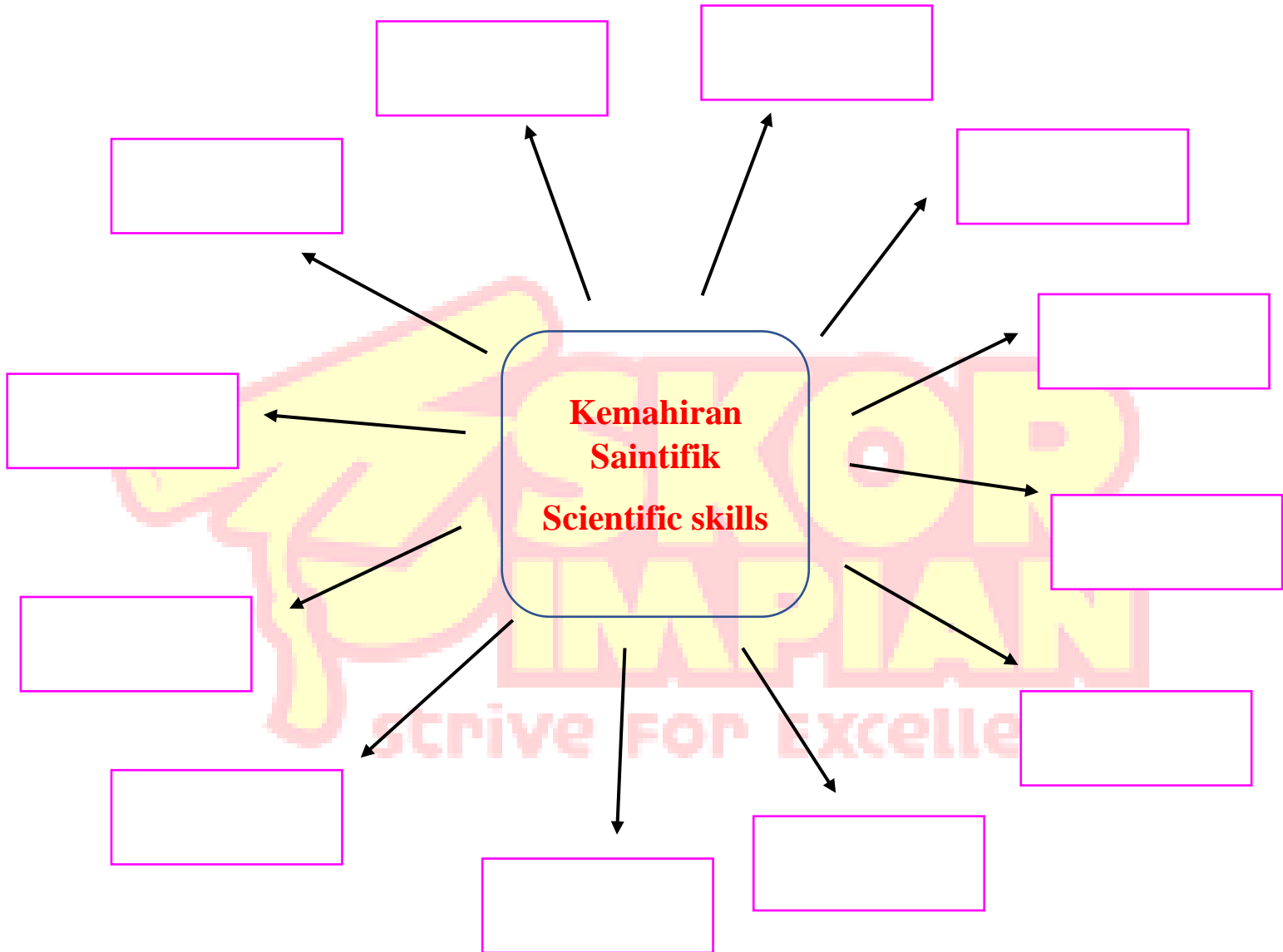
4- Lima ribu tujuh ratus tiga/ Five thousand seven hundred and three

.....

Latihan 1 Sains

Senaraikan semua kemahiran proses sains.

List out all the science process skills.




Latihan 2 Sains

Padankan rajah yang berikut kepada kemahiran proses sains yang betul.

Match the following with correct science process skills.

1-

Memerhati
Observe



2-

Meramal
Predict



3-

Mengelas
Classify



4-

Komunikasi
Communicate



5-

Mengukur dan menggunakan nombor
Measure and use number

